


### 少了一个正方形

此图是用12根火柴摆出的田字形,你可以只移动3根火柴,就形成3个面积相同的正方形吗?



		4		8		9	
1	5				3	7	
		2	4		7	8	6
	6			1		2	5
7				3	6		8
	8	9			2		6
9		6	8		5	1	
		7	1				4
		5		7		6	

### 苹果数


园丁从苹果树上摘下来一堆苹果,青苹果与红苹果的个数比例为2:5,后来有人又放入2个苹果,结果比例变为1:2。那么,你知道这堆苹果原来有多少个吗?

### 数独

在空白格填入数字,使其每行、每列、每一个粗线格(3x3)内的数字为1-9,不重复。

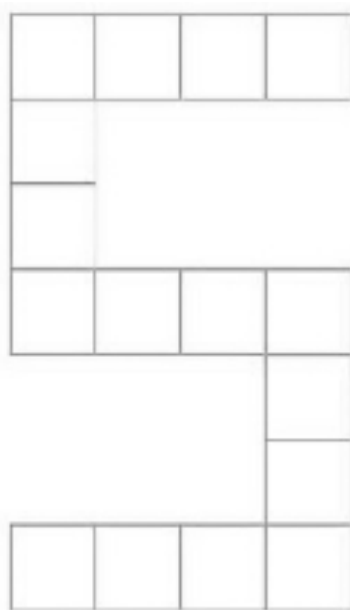
### 猜字

- 什么字,一滴水?
- 什么字,两滴水?
- 什么字,三滴水?
- 什么字,四滴水?
- 什么字,六滴水?
- 什么字,十滴水?
- 什么字,十一滴水?



### 如何走完这条路

牛牛和思思在一条马路上走着,前面有个拐弯,牛牛本应该向左转的,但是思思说“牛牛,你能不向左转,就把这条路走完吗?”牛牛说:“当然可以。”说完之后,他径直向转弯处走去。过了5分钟,他果然没有左转就走完了这条向左转弯的路,你知道他是如何完成的吗?



### 乐智上期答案

#### 男女相隔

若按照题目给出的线索,宋先生、梁夫人和陈氏夫妇等人的位置将有两种坐法。但不变的是位于梁先生左边位置的那个人,也就是齐夫人。

#### 数独


1	7	8	5	6	2	9	3	4
2	3	4	7	8	9	5	1	6
6	5	9	4	1	3	2	8	7
9	8	6	1	4	5	7	2	3
3	1	7	2	9	8	4	5	6
5	4	2	3	7	6	8	9	1
8	2	1	6	5	4	3	7	9
4	9	5	8	3	7	1	6	2
7	6	3	9	2	1	8	4	5

#### 填数字

		3		
		8		
9	2	1	6	5
		4		
		7		

### 数字城堡

如图所示,有一座数字城堡,假设你现在必须进入这座城堡,但是你只有将3~29这27个数填进适当空格,使1~30每相邻两个数所在的方格之间始终保持等距(等距即两方格中心点间的距离相等),才能进入。那么,你该怎么填呢?



### “5”字中的成语

此图是由方格组成的“5”字,请你把“不、开、百、以、花、为、然、争、齐、道、岸、家、锣、放、貌、鸣”16个字填在格子里,使之横竖读起来都是成语。

您想提前知道“乐智”版答案吗?可扫码关注“浙江老年报”公众号,我们将不定期公布答案。

