



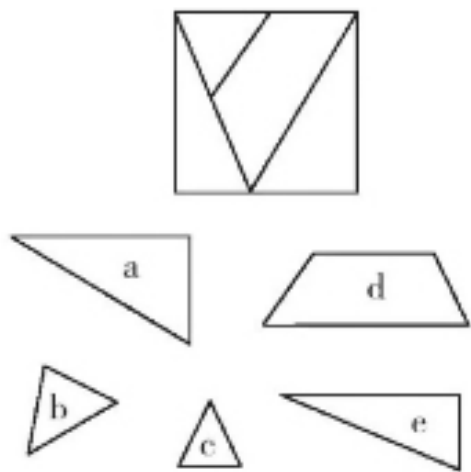
六一儿童节会玩什么游戏?儿时记忆中必然少不了跳橡皮筋、跳山羊、滚铁环、翻花绳等项目,每一个都算得上是经典。有老年朋友提出,在家也想与孙辈互动,可以玩些什么呢?不妨试试益智游戏。多玩益智游戏不仅可以娱乐消遣,还可以锻炼大脑、预防痴呆,赶紧试试吧。

三个课代表

三年级二班有三位课代表,分别是语文课代表、数学课代表和英语课代表。语文课代表总是说真话,数学课代表总是说假话,英语课代表有时候说真话有时候说假话。


明明说:“我不是语文课代表。”乐乐说:“我不是数学课代表。”珊珊说:“我不是英语课代表。”

通过以上表述,你能判断出三个人分别是什么课代表吗?



多出了一块饼干

有一块方形的饼干,按图中的虚线被切成了四块,在后面的五幅图形中有一块不属于方形饼干,那么多余的饼干切片是哪块呢?



看图猜成语

根据上面的图片提示,猜一成语。

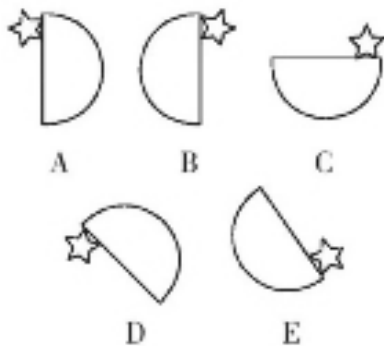
可口的汽水

一家商店最近开展了一项促销活动,凡从商店里购买汽水的人,都可以凭借两个空汽水瓶再换回一瓶新汽水。已知,每瓶汽水售价1元,东东有20元,他最多能喝到多少瓶汽水呢?

		3		4		6		1
7			5		6		9	
4		9	3					2
9	2			1		5		
		7	6			8		
		6	8		5		1	9
	7				9	4		6
	3		2		4			8
6		4		3		1		

数独

在空白格填入数字,使其每行、每列、每一个粗线格(3×3)内的数字为1-9,不重复。



哪个图形不一样

在上面的几个图形中,有一个图形的排列方式与其他图形不同,请找出不同的那一个。

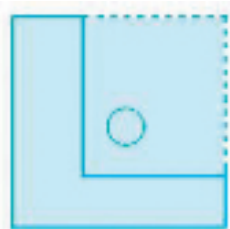
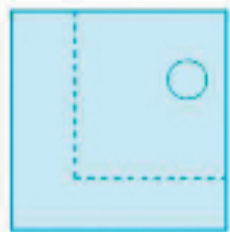
最长的手指

当我们伸出手掌时,会看到五根长短不同的手指。除拇指外,其他四根手指最短的就是小指,最长的是食指,不过有人说最长的指头是无名指,这种说法对不对呢?

上期答案

移动的圆

沿L形的方向剪下正方形的一部分,然后将其向对角翻转,令有洞的部分居于纸张中心。



数独

3	1	6	2	9	2	4	8	1
1	7	4	5	8	7	9	3	5
5	9	0	1	3	4	5	7	7
4	8	7	6	7	4	1	5	3
2	5	7	0	4	1	6	7	7
7	6	6	8	2	1	8	4	5
5	1	3	7	5	1	2	8	4
2	6	9	4	8	3	7	1	5
5	4	7	9	1	2	8	8	6

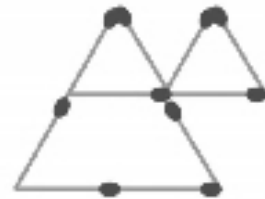
图形竖式

C。这个等式代表 $5-1-1-1-1=1$ 。

10只羊

抑扬顿挫

6个变3个



快速煎牛排

15分钟。先把3块牛排编号为1、2、3。然后,第一步:1号正面,2号正面(用时5分钟);第二步:煎1号反面,3号正面(用时5分钟);最后煎2号反面,3号反面(用时5分钟),这样花的时间加起来就只有15分钟了。



破碎的心

上图是一颗完整的心,后来它破成了三块,你能找到哪三块是它的碎片吗?