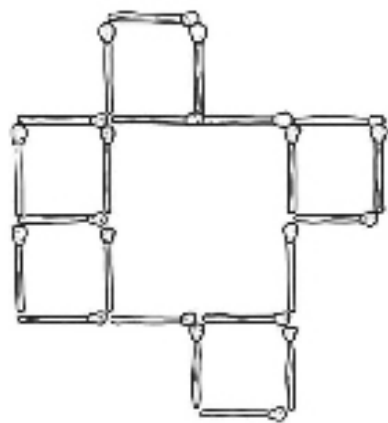


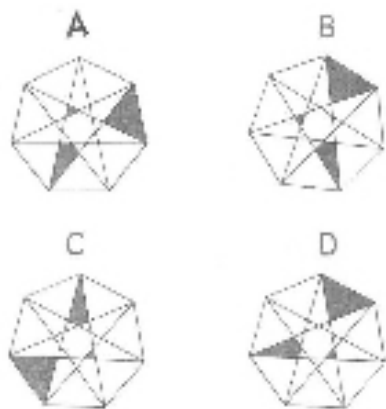
### 巧加房间

动物园用围栏围出了6个房间,现在引入两个珍稀动物,它们不能和其他动物放在一起。工作人员只添加了4根围栏,就让6个房间变成了9个。你知道是怎样添加的吗?



### 纵横相等

请观察 A、B、C、D 四个图形,请从中找出和其他三个选项存在不一样特点的图形。



您想提前知道“乐智”版答案吗?可扫码关注“浙江老年报”公众号,我们将不定期公布答案。



		1	5	6		9
	9			4		2
		6		8		3
6	7		3			9
3						5
		8	6			2 3
		9		7		8
		7		5		9
1			3	9	5	

### 数独

在空白格填入数字,使其每行、每列、每一个粗线格(3×3)内的数字为1-9,不重复。

### 毕氏三角数


如果两个平方数恰好等于第三个平方数,这样的三个数叫作毕氏三角数。观察下列毕氏三角数:

3的平方加4的平方等于5的平方;5的平方加12的平方等于13的平方;7的平方加24的平方等于25的平方。你能找出规律推出下一组吗?

### 乐智上期答案

#### 火柴英语谜题

如图所示,变成cock(公鸡)。



#### 纵横相等

4		3	2	1	
		3	1	1	1
1	1	3			1
1	1			1	1
1	1			1	1
1	1	1	1	1	1

#### 猜谜得奖

谜底:粽子。

#### 数独

1	4	2	5	3	6	7	8
4	3	5	8	7	1	3	2
7	6	3	6	2	1	4	9
6	1	3	7	2	5	8	9
3	4	7	4	5	9	2	6
2	9	5	1	6	3	3	7
3	2	1	9	8	5	7	4
5	6	8	7	3	4	0	2
7	9	2	1	5	5	4	1

| 重视生态平衡 | 共享和谐安宁 |

# 绿水青山 就是金山银山

